


La divisione

Leggi, osserva il disegno e completa

Asia **distribuisce** in parti uguali 8 caramelle tra le sue 4 amiche.

Quante caramelle riceverà **ogni** amica?



Distribuisci una caramella ad ogni bambina. Esegui una **divisione**

8 caramelle divise tra 4 bambine =caramelle ad ogni bambina.

$$8 : 4 = \dots\dots\dots$$

Risposta

Ogni bambina riceverà.....

Ricorda : la **divisione** è l'operazione che permette di distribuire **in parti uguali** una quantità. Il suo segno è : (diviso)

DIVIDERE PER DISTRIBUIRE

Leggi, segui le istruzioni e completa.

- 1 Distribuisci in numero uguale i panini nei cestini. Usa le frecce e disegna un ● sul cestino per ogni panino distribuito.



- Numero di panini in tutto:
- Numero di cestini:
- Numero di panini in ogni cestino:

8 panini **distribuiti in numero uguale** in 2 cestini corrispondono a panini in ogni cestino.

$$\underline{8} : \underline{2} = \underline{\quad}$$

- 2 Distribuisci in numero uguale le pizzette nei piatti. Usa le frecce e disegna un ● sul piatto per ogni pizzetta distribuita.




- Numero di pizzette in tutto:
- Numero di piatti:
- Numero di pizzette in ogni piatto:

..... pizzette **distribuite in numero uguale** in piatti corrispondono a pizzette in ogni piatto.

$$\underline{\quad} : \underline{\quad} = \underline{\quad}$$

La divisione

✦ **Distribuisci le mele nei cesti IN PARTI UGUALI.**



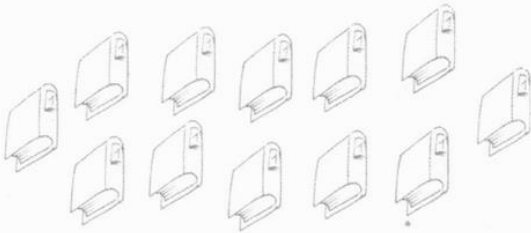
Quante mele?

Quanti cesti?

Quante mele in ogni cesto?

$$16 : 4 = \dots$$

✦ **Distribuisci i libri nelle cartelle IN PARTI UGUALI.**



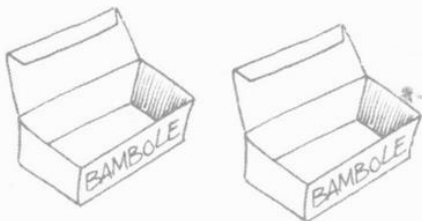
Quanti libri?

Quante cartelle?

Quanti libri in ogni cartella?

$$\dots : \dots = \dots$$

✦ **Distribuisci le bambole nelle scatole IN PARTI UGUALI.**



Quante sono le bambole?


Quante sono le scatole?

Quante bambole in ogni scatola?

$$\dots : \dots = \dots$$

Leggi e risolvi i problemi

Il pizzaiolo **distribuisce** in parti uguali **12** fette di mozzarella su **3** pizze.





Quante fette di mozzarella mette su **ogni** pizza?



Operazione =

Risposta

Luca ha **15** palloni. Li **sistema** in parti uguali in **5** contenitori. Quanti palloni mette in **ogni** contenitore?



Operazione =

Risposta

Rappresenta la divisione con un disegno

$8 : 2 =$

$16 : 4 =$

$20 : 5 =$

