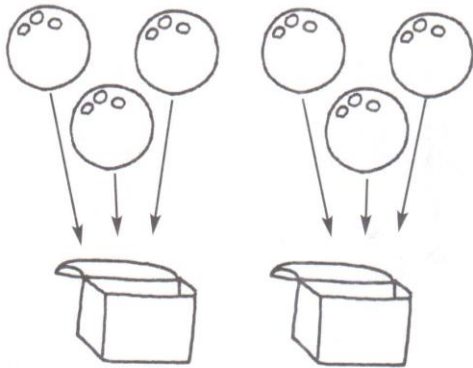



# LA METÀ

1 Calcola la metà e completa.



$$6 : 2 = 3$$

La metà di 6 è .....




$$10 : 2 = \dots\dots$$

La metà di 10 è .....



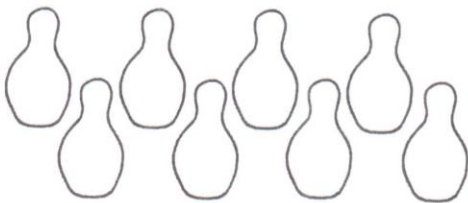
$$14 : 2 = \dots\dots$$

La metà di 14 è .....




$$16 : 2 = \dots\dots$$

La metà di 16 è .....



$$8 : 2 = \dots\dots$$

La metà di 8 è .....



$$12 : 2 = \dots\dots$$

La metà di 12 è .....